

Заполняется ПЕЧАТНЫМИ БУКВАМИ чернилами черного или синего цвета по образцам:

А	Б	В	Г	Д	Е	Ж	З	И	К	Л	М	Н	О	П	Р	С	Т	У	Ф	Х	Ц	Ч	Ш	Щ	Ъ	Ы	Ь	Э	Ю	Я	@	8	9	.
А	В	С	Д	Е	F	G	H	I	J	K	L	M	N	O	P	Q	R	S	T	U	V	W	X	Y	Z	1	2	3	4	5	6	7	0	.

ПРЕДМЕТ

КЛАСС

ДАТА . .

ШИФР УЧАСТНИКА

T-22

ФАМИЛИЯ

ИМЯ

ОТЧЕСТВО

Документ удостоверяющий личность

свидетельство о рождении

паспорт

Гражданство

Российская Федерация

серия

номер

Иное

Дата рождения . .

Домашний телефон участника + 7

Мобильный телефон участника + 7

Электронный адрес участника

**Задания для участников
ТЕОРЕТИЧЕСКИЙ ТУР**

16/4

Продолжительность выполнения заданий теоретического тура - 45 минут
Максимальное количество баллов за теоретический тур – 25 баллов

Общая часть

1. (1 балл) Выберите из списка понятие, определение которого приведено ниже.

«Свойство технических или программных систем выполнять функции (творческие), которые традиционно считаются прерогативой человека».

Выберите один правильный ответ.

А	Б	В	Г
Интернет вещей	Искусственный интеллект	Нанотехнологии	Умный дом

Ответ: Б 18.


2. (1 балл) Выберите из списка объект, имеющий наноразмер.

Выберите один правильный ответ.

А	Б	В	Г
Семечко подсолнуха	Булавочная головка	Молекула глюкозы	Песчинка

Ответ: В 16.

3. (1 балл) Из предложенных чертежей выберите вид сверху детали, изображённой на рисунке.



Выберите один правильный ответ.

А	Б	В	Г

Ответ: Г 18.

7. (1 балл) К какому типу профессий по принятой классификации относится профессия бухгалтер?

Выберите один правильный ответ.

А	человек–человек
Б	человек–природа
В	человек–техника
Г	человек–знаковая система
Д	человек–художественный образ

15

Ответ: Г

8. (1 балл) Сколько аммиачной селитры нужно растворить в ведре воды ёмкостью 10 литров, чтобы получить раствор для прикорневой подкормки овощей, имеющий концентрацию 0,1 %? Ответ округлите до целого числа граммов.

Выберите один правильный ответ.

А	Б	В	Г
5 г	10 г	15 г	20 г

Ответ: Б

15.

9. (1 балл) Как называются пищевые продукты, о которых говорится в отрывке из стихотворения Николая Заболоцкого «Обед»?

...Вот луковицы выбегают,
скрипят прозрачной скорлупой и вдруг, вывёртываясь из неё, прекрасной наготой блистают; тут шевелится толстая морковь, кружками падая на блюдо, там прячется лукавый сельдерей в коронки тонкие кудрей, и репа твёрдой выструганной грудью качается атланта тяжелей...

Выберите один правильный ответ.

А	Б	В
Молочные продукты	Овощи	Фрукты

Ответ: Б

15

10. (1 балл) К какой группе относятся морковь и репа?


Выберите один правильный ответ.

№ группы	Название группы по классификации
1	Капустные
2	Луковые
3	Пряные
4	Бобовые
5	Корнеплоды
6	Клубнеплоды
7	Томатные
8	Салатно-шпинатные

Ответ: 5

15.





ШИФР _____

4	Федоскинская миниатюра	Г	
---	------------------------	---	--

Ответ: 1- Б, 2- А, 3- Б, 4- В 15

13. (1 балл) Выберите из предложенных условных обозначений, используемых в схемах вязания крючком, столбик с тремя накидами.


Выберите один правильный ответ.

А	Б	В	Г
			

Ответ: Б 15

14. (1 балл) В какой технике выполнено изделие, изображённое на рисунке?

Выберите один правильный ответ.



А	Б	В	Г
декупаж	канзаши	квиллинг	печворк

Ответ: В 0


15. (1 балл) Как можно визуально увеличить размер помещения?

Выберите все правильные ответы.

А	Б	В	Г
Использовать обои с крупным рисунком	Использовать светлые и однотонные обои	Использовать зеркала	Выполнить светлый потолок на фоне тёмного пола и стен

Ответ: БВ 15

18. (1 балл) Выберите схему атласного переплетения.
Выберите один правильный ответ.



Ответ: 3

15

19. (1 балл) Что происходит при переносе на грудной вытачки с её вершиной?
Выберите один правильный ответ.

1	2	3	4
Переносится вместе с вытачкой	Переносится не более чем на 1 см	Переносится не более чем на 2 см	Остаётся на месте

Ответ: 4

15

20. (1 балл) Установите соответствие между графическими изображениями, схемами и названиями швов.

Графическое изображение	Схема		Название	
	1	2	I	II
А			I	II
Б			I	II
В			I	II

Ответ: А- 1 III, Б- 3 I, В- 2 II

15